

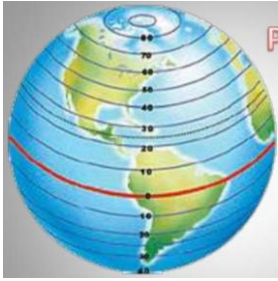

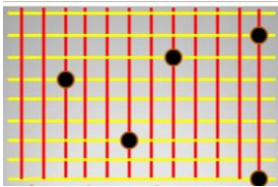


LA REPRESENTACIÓN DE LA TIERRA

Actividad 1.- ¿Qué sabemos de la representación de la Tierra?

Completa la siguiente tabla con la información solicitada.

<p>La Tierra se puede representar por medio de</p>		
<p>¿Qué son los MERIDIANOS?</p>		
<p>¿Qué son los PARALELOS?</p>		
<p>¿Qué son las COORDENADAS GEOGRÁFICAS?</p>		
<p>Una Coordenada Geográfica se forma siempre con...</p>		
<p>¿Qué datos son necesarios saber para determinar la posición de un lugar en el planeta?</p>		
<p>¿Cómo se mide la LATITUD?</p>		
<p>¿Cómo se mide la LONGITUD?</p>		
<p>Madrid se encuentra geográficamente _____(Latitud) y _____ (Longitud).</p>		

Actividad 2.- Situación en el PLANISFERIO

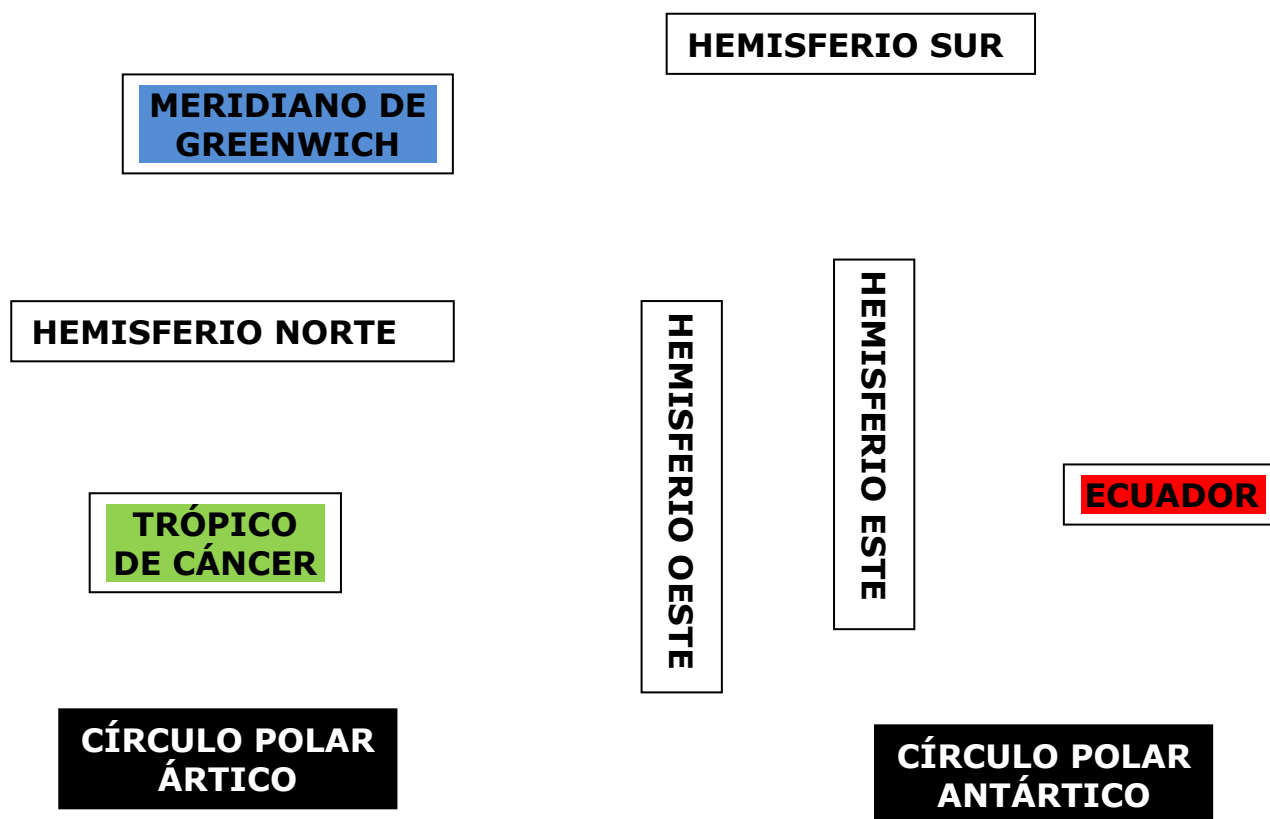
Para completar esta representación de la Tierra seguid minuciosamente las indicaciones que os proponemos a continuación.

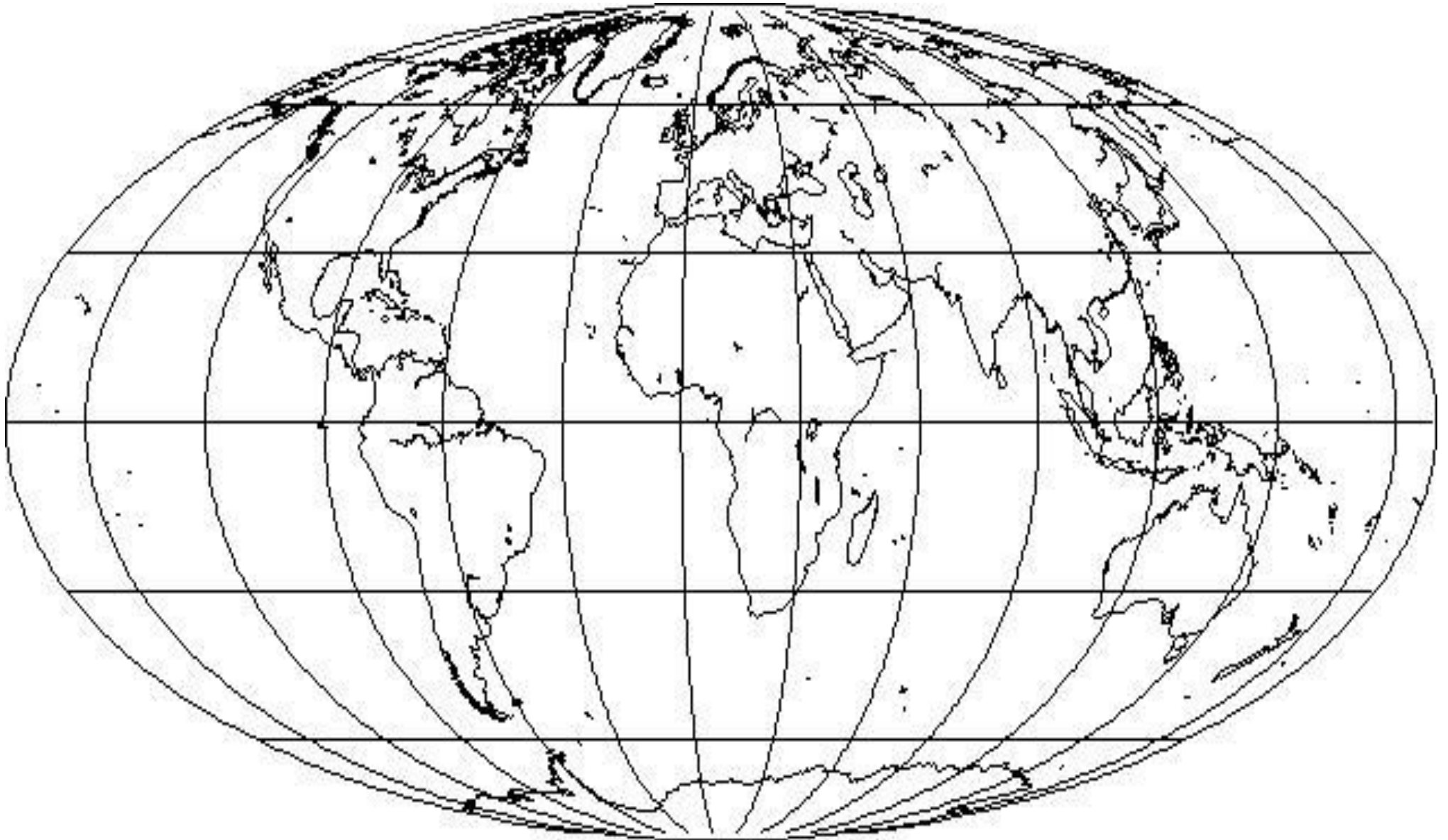
- Repasad con color/rotulador rojo el ECUADOR. Recortad su rótulo y pegadlo en el planisferio.
- Repasad con color/rotulador azul el MERIDIANO CERO o Meridiano de Greenwich. Recortad su rótulo y pegadlo en el planisferio.
- Localizad el Paralelo llamado TRÓPICO DE CÁNCER, repasad su línea con color/rotulador verde. Recortad su rótulo y pegadlo en el planisferio.
- Localizad el Paralelo llamado TRÓPICO DE CAPRICORNIO, repasad su línea con color/rotulador verde. Recortad su rótulo y pegadlo en el planisferio.
- Localizad el paralelo llamado CÍRCULO POLAR ÁRTICO, repasad su línea con color/rotulador negro. Recortad su rótulo y pegadlo en el planisferio.
- Localizad el paralelo llamado CÍRCULO POLAR ANTÁRTICO, repasad su línea con color/rotulador negro. Recortad su rótulo y pegadlo en el planisferio.
- Recortad los rótulos HEMISFERIO NORTE, HEMISFERIO SUR, HEMISFERIO ESTE, HEMISFERIO OESTE y pegadlos en el planisferio en su lugar.

Una vez completado el PLANISFERIO ¿Seríais capaces de decirnos, por su situación, la Latitud y Longitud de la Península Ibérica?

La Península Ibérica se encuentra ubicada a: _____ (Latitud)
Y _____ (Longitud)

Recortables





PLANISFERIO COMPLETADO POR: